



Podpora Evropské komise při tvorbě této publikace nepředstavuje souhlas s obsahem, který odráží pouze názory autorů, a Komise nemůže být zodpovědná za jakékoliv využití informací obsažených v této publikaci.

## Pracovní list – Naše město

Datum: \_\_\_\_\_

### 1. Čtete a doplňte správně slova:

Morkovice leží na M \_ \_ A \_ Ě, v kraji \_ \_ \_ N \_ K \_ Ě \_ v tzv. L \_ T \_ N \_ I \_ K \_ Ě

pahorkatině s nejvyšším vrcholem K L \_ Š \_ Ě \_ C \_ M : 497,5 m.n.m. Nejbližší větší města

jsou: K \_ \_ \_ \_ \_ Ž a V \_ \_ \_ \_ V. V mapce úkolu 2. vyznač, kudy bys jel do těchto dvou

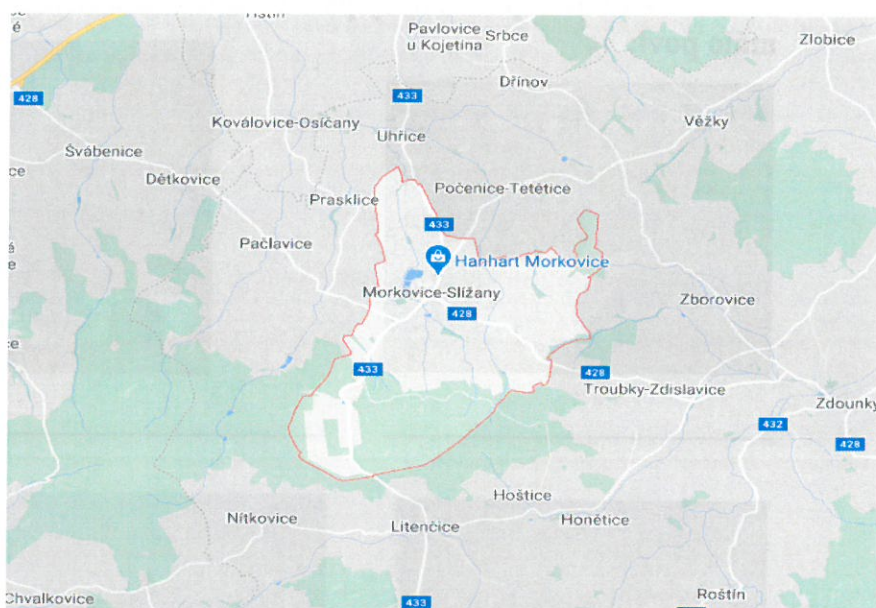
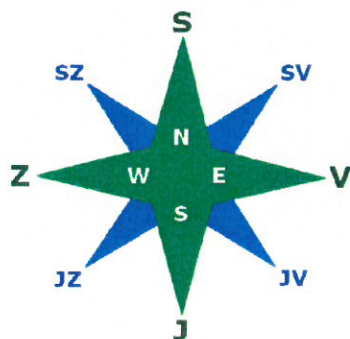
měst!!! A kolik je to km (sleduj po cestě, hlavně na Náměstí informativní značky:)

### 2. Které obce se nachází v okolí Morkovic:

na severu - \_\_\_\_\_ na jihu: \_\_\_\_\_

na západě, severozápadě - \_\_\_\_\_ na východě: \_\_\_\_\_

\_\_\_\_\_



### 3. Historie Morkovic je bohatá a první zpráva o Morkovicích je z roku ??? Zjistěte ve vchodu restaurace Mezi stromy a napište: \_\_\_\_\_ . Vypočítejte, kolik let uplynulo od této zprávy? Výpočet: \_\_\_\_\_

Odpověď: \_\_\_\_\_

\_\_\_\_\_


Jaké výročí se blíží: \_\_\_\_\_






Podpora Evropské komise při tvorbě této publikace nepředstavuje souhlas s obsahem, který odráží pouze názory autorů, a Komise nemůže být zodpovědná za jakékoliv využití informací obsažených v této publikaci.

**4. Morkovice mají také svou pověst – O hadovi s korunkó, nakreslete, jak si takového hada představujete, kamarádi z naší školy vám tu pověst pak rádi zahrají:**



**5. K obrázkům napište názvy památek, kamarádi z Morkovic vám o památkách něco málo poví:**



**6. Nejen historií žije naše město, ale stále se u nás něco buduje, poznáte naši nejnovější stavbu, ve které navštívíme p. starostu Mgr. P\_\_\_\_\_ H\_\_\_\_\_. Připravte si pro něj alespoň 2 - 3 otázky:**

**Napište:**

---

---

---

